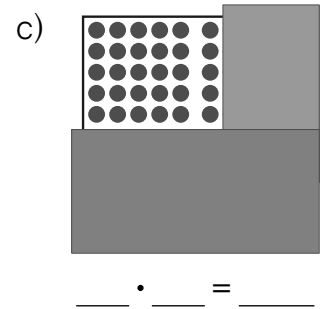
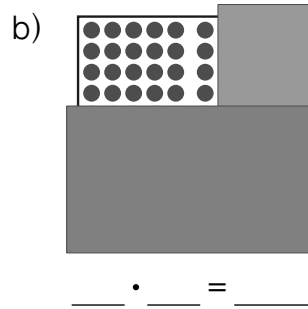
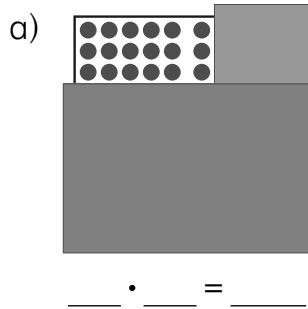
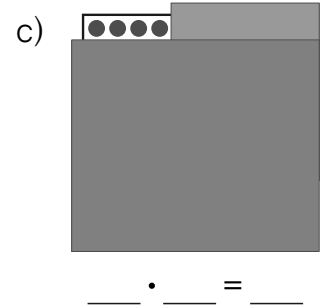
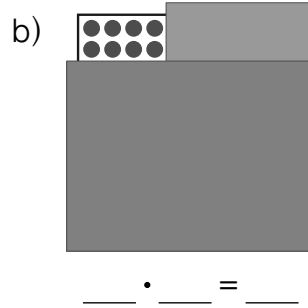
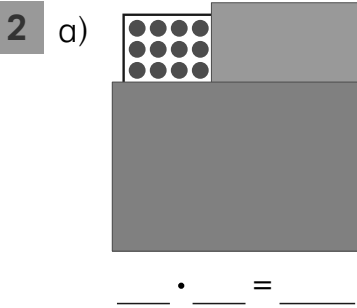


## Aufgaben am Punktefeld

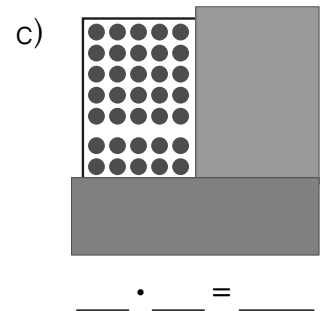
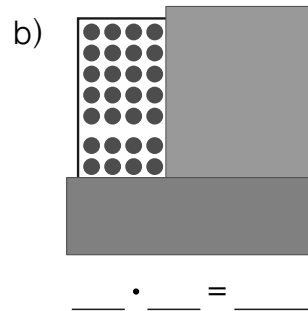
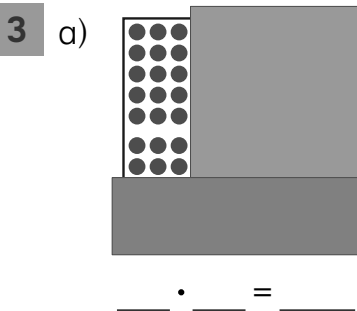
**1** Schreibe immer die passende Mal-Aufgabe. Beschreibe.



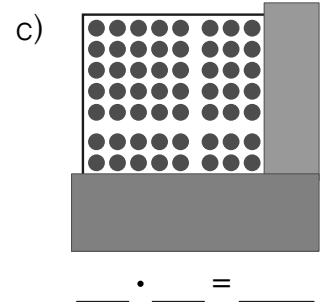
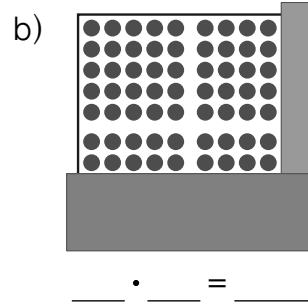
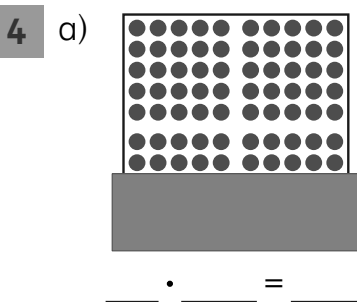
d) Immer eine Reihe mehr. Von Aufgabe zu Aufgabe immer \_\_\_\_\_ dazu.



d) Immer eine Reihe weniger. Von Aufgabe zu Aufgabe immer \_\_\_\_\_ weg.



d) Immer eine Spalte mehr. Von Aufgabe zu Aufgabe immer \_\_\_\_\_ dazu.



d) Immer eine Spalte weniger. Von Aufgabe zu Aufgabe immer \_\_\_\_\_ weg.